

2014년 1회 공조냉동기계산업기사 필기시험 기출문제 답안

【1과목 : 20문제】 공기조화	1	2	3	4	5	6	7	8	9	10
	1	2	2	1	2	1	4	4	3	4
	11	12	13	14	15	16	17	18	19	20
	4	2	4	4	4	2	3	3	2	4
【2과목 : 20문제】 냉동공학	21	22	23	24	25	26	27	28	29	30
	2	3	3	2	3	1	2	1	3	3
	31	32	33	34	35	36	37	38	39	40
	4	4	4	3	2	1	4	4	2	1
【3과목 : 20문제】 배관일반	41	42	43	44	45	46	47	48	49	50
	4	1	2	3	4	3	2	4	4	2
	51	52	53	54	55	56	57	58	59	60
	4	2	1	1	1	3	3	4	4	2
【4과목 : 20문제】 전기제어공학	61	62	63	64	65	66	67	68	69	70
	1	1	3	2	2	1	2	3	2	2
	71	72	73	74	75	76	77	78	79	80
	2	1	4	1	3	1	1	3	3	4

합격점수는 100점 만점에 60점(80문제 중 48문제) 이상입니다.

단, 과목별 100점 만점에 40점(20문제 중 8문제) 이상 득점하지 못한 과목이 있으면 과목낙제로 실격됩니다.

【오답 및 오타 문의】 건시스템(gunsys.com)

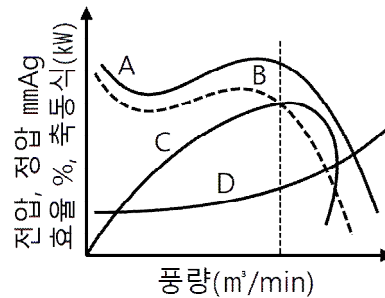
본 문제지 파일에 수록된 기출문제 원저작권은 자격검정 시행기관인 한국산업인력공단에 있으며, 건시스템에서는 편집 및 재구성 작업만 하였음을 밝힙니다.

※ 아래 여백은 메모 용도로 활용하세요.

【1과목】 공기조화 (20문제)

- 우리나라에서 오전 중에 냉방 부하가 최대가 되는 존(Zone)은 어느 방향인가?
 ① 동쪽 방향 ② 서쪽 방향
 ③ 남쪽 방향 ④ 북쪽 방향
- 환기방식 중 송풍기를 이용하여 실내에 공기를 공급하고, 배기구나 건축물의 틈새를 통하여 자연적으로 배기하는 방법은?
 ① 제1종 환기 ② 제2종 환기
 ③ 제3종 환기 ④ 제4종 환기
- 냉수코일의 설계에 있어서 코일 출구온도 10°C, 코일 입구온도 5°C, 전열부하 83740kJ/h일 때, 코일 내 순환수량(L/min)은 약 얼마인가? (단, 물의 비열은 4.2kJ/kg·K이다.)
 ① 55.5L/min ② 66.5L/min
 ③ 78.5L/min ④ 98.7L/min
- 공기조화 부하계산을 할 때 고려하지 않아도 되는 것은?
 ① 열원방식
 ② 실내 온·습도의 설정조건
 ③ 지붕재료 및 치수
 ④ 실내 발열기구의 사용시간 및 발열량
- 냉수 또는 온수코일의 용량제어를 2방 밸브로 하는 경우 물배관계통의 특성 중 옳은 것은?
 ① 코일 내의 수량은 변하나 배관 내의 유량은 부하 변동에 관계없이 정유량(定流量)이다.
 ② 부하변동에 따라 펌프의 대수제어가 가능하다.
 ③ 차압제어밸브가 필요 없으므로 펌프의 양정을 낮게 할 수 있다.
 ④ 코일 내의 수량이 변하지 않으므로 전열효과가 크다.
- 인체에 작용하는 실내 온열환경 4대 요소가 아닌 것은?
 ① 청정도 ② 습도
 ③ 기류속도 ④ 공기온도
- 바이패스 팩터에 관한 설명으로 옳지 않은 것은?
 ① 바이패스 팩터는 공기조화기를 공기가 통과할 경우 공기의 일부가 변화를 받지 않고 원 상태로 지나쳐갈 때 이 공기량과 전체 통과 공기량에 대한 비율을 나타낸 것이다.
 ② 공기조화기를 통과하는 풍속이 감소하면 바이패스 팩터는 감소한다.
 ③ 공기조화기의 코일열수 및 코일 표면적이 적을 때 바이패스 팩터는 증가한다.
 ④ 공기조화기의 이용 가능한 전열 표면적이 감소하면 바이패스 팩터는 감소한다.
- 공기 세정기에 관한 설명으로 옳지 않은 것은?
 ① 공기 세정기의 통과풍속은 일반적으로 2~3m/s이다.
 ② 공기 세정기의 가습기는 노즐에서 물을 분무하여 공기에 충분히 접촉시켜 세정과 가습을 하는 것이다.
 ③ 공기 세정기의 구조는 루버, 분무노즐, 플러딩 노즐, 엘리미네이터 등이 케이싱 속에 내장되어 있다.
 ④ 공기 세정기의 분무 수압은 노즐 성능상 20~50kPa이다.

- 염화리튬, 폴리에틸렌 글리콜 등의 액체를 사용하여 감습하는 장치는?
 ① 냉각감습장치 ② 압축감습장치
 ③ 흡수식 감습장치 ④ 세정식 감습장치
- 증기난방에 관한 설명으로 옳지 않은 것은?
 ① 열매온도가 높아 방열면적이 작아진다.
 ② 예열시간이 짧다.
 ③ 부하변동에 따른 방열량의 제어가 곤란하다
 ④ 증기의 증발현열을 이용한다'
- 공기조화 방식의 분류 중 공기-물 방식이 아닌 것은?
 ① 유인 유닛방식
 ② 덕트병용 팬코일 유닛방식
 ③ 복사 냉난방 방식(패널에어 방식)
 ④ 멀티존 유닛방식
- 도서관의 체적이 630m³이고 공기가 1시간에 29회 비율로 틈새바람에 의해 자연 환기될 때 풍량(m³/min)은 약 얼마인가?
 ① 295 ② 304
 ③ 444 ④ 572
- 다음 그림은 송풍기의 특성 곡선이다. 점선으로 표시된 곡선 B는 무엇을 나타내는가?



- 축동력 ② 효율
 ③ 전압 ④ 정압
- 덕트 설계 시 고려하지 않아도 되는 사항은?
 ① 덕트로부터의 소음
 ② 덕트로부터의 열손실
 ③ 공기의 흐름에 따른 마찰 저항
 ④ 덕트 내를 흐르는 공기의 엔탈피
- 실내의 기류분포에 관한 설명으로 옳은 것은?
 ① 소비되는 열량이 많아져서 추위를 느끼게 되는 현상 또는 인체에 불쾌한 냉감을 느끼게 되는 것을 유효 드래프트라고 한다.
 ② 실내의 각 점에 대한 EDT를 구하고, 전체 점수에 대한 쾌적한 점수의 비율을 T/L비 라고 한다.
 ③ 일반사무실 취출구의 허용 풍속은 1.5~2.5m/s이다.
 ④ 1차 공기와 전 공기의 비를 유인비라 한다.
- 증기-물 또는 물-물 열교환기의 종류에 해당되지 않는 것은?
 ① 원통다관형 열교환기
 ② 전열 교환기
 ③ 판형 열교환기
 ④ 스파이럴형 열교환기

17. 공기 중의 수증기 분압을 포화압력으로 하는 온도를 무엇이라 하는가?
 ① 건구온도
 ② 습구온도
 ③ 노점온도
 ④ 글로브(Globe) 온도
18. 보일러의 출력표시에서 난방부하와 급탕부하를 합한 용량으로 표시되는 것은?
 ① 과부하출력 ② 정격출력
 ③ 정미출력 ④ 상용출력
19. 온수배관 시공 시 주의할 사항으로 옳은 것은?
 ① 각 방열기에는 필요시에만 공기배출기를 부착한다.
 ② 배관 최저부에는 배수밸브를 설치하며, 하향구배로 설치한다.
 ③ 팽창관에는 안전을 위해 반드시 밸브를 설치한다.
 ④ 배관 도중에 관지름을 바꿀 때에는 편심이음쇠를 사용하지 않는다.
20. 습공기선도상에 나타나 있는 것이 아닌 것은?
 ① 상대습도 ② 건구온도
 ③ 절대습도 ④ 포화도

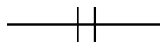
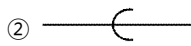


【2과목】 냉동공학 (20문제)

21. 냉동장치의 안전장치 중 압축기로의 흡입압력이 소정의 압력 이상이 되었을 경우 과부하에 의한 압축기용 전동기의 위험을 방지하기 위하여 설치되는 기기는?
 ① 증발압력 조정밸브(EPR)
 ② 흡입압력 조정밸브(SPR)
 ③ 고압 스위치
 ④ 저압 스위치
22. 열원에 따른 열펌프의 종류가 아닌 것은?
 ① 물-공기 열펌프
 ② 태양열 이용 열펌프
 ③ 현열 이용 열펌프
 ④ 지중열 이용 열펌프
23. 팽창밸브 입구에서 410kcal/kg의 엔탈피를 갖고 있는 냉매가 팽창밸브를 통과하여 압력이 내려가고 포화액과 포화증기의 혼합물, 즉 습증기가 되었다. 습증기 중 포화액의 유량이 7 kg/min일 때 전 유출 냉매의 유량은 약 얼마인가? (단, 팽창밸브를 지난 후의 포화액의 엔탈피는 54kcal/kg, 건포화증기의 엔탈피는 500kcal/kg이다.)
 ① 30.3kg/min ② 32.4kg/min
 ③ 34.7kg/min ④ 36.5kg/min
24. 매분 염화칼슘 용액 350L/min를 -5°C에서 -10°C까지 냉각시키는 데 필요한 냉동능력은 얼마인가? (단, 염화칼슘 용액의 비중은 1.2, 비열은 0.6kcal/kg°C이다.)
 ① 78300(kcal/h) ② 75600(kcal/h)
 ③ 72500(kcal/h) ④ 71900(kcal/h)

25. C.A 냉장고(Controlled Atmosphere Storage Room)의 용도로 가장 적당한 것은?
 ① 가정용 냉장고로 쓰인다.
 ② 제빙용으로 주로 쓰인다.
 ③ 청과물 저장에 쓰인다.
 ④ 공조용으로 철도, 항공에 주로 쓰인다.
26. 압축기 직경이 100mm, 행정이 850mm, 회전수 2,000rpm, 기동수 4일 때 피스톤 배출량은?
 ① 3204m³/h ② 3316m³/h
 ③ 3458m³/h ④ 3567m³/h
27. 냉매와 화학분자식이 옳게 짝지어진 것은?
 ① R-500 → CCl₂F₄ + CH₂CHF₂
 ② R-502 → CHClF₂ + CClF₂CF₃
 ③ R-22 → CCl₂F₂
 ④ R-717 → NH₄
28. 2원 냉동장치의 저온측 냉매로 적합하지 않은 것은?
 ① R-22 ② R-14
 ③ R-13 ④ 에틸렌
29. 냉매가 구비해야 할 이상적인 물리적 성질로 틀린 것은?
 ① 임계온도가 높고 응고온도가 낮을 것
 ② 같은 냉동능력에 대하여 소요동력이 적을 것
 ③ 전기 절연성이 낮을 것
 ④ 저온에서도 대기압 이상의 압력으로 증발하고 상온에서 비교적 저압으로 액화할 것
30. 2단 압축 2단 팽창 냉동장치에서 중간냉각기가 하는 역할이 아닌 것은?
 ① 저단 압축기의 토출가스 과열도를 낮춘다.
 ② 고압 냉매액을 과랭시켜 냉동효과를 증대시킨다.
 ③ 저단 토출가스를 재압축하여 압축비를 증대시킨다.
 ④ 흡입가스 중의 액을 분리하여 리키드 백을 방지한다.
31. 다음 냉매 중 아황산가스에 접했을 때 흰 연기를 내는 가스는?
 ① 프레온 12 ② 크로메틸
 ③ R-410A ④ 암모니아
32. 교축작용과 관계가 적은 것은?
 ① 등엔탈피 변화
 ② 팽창밸브에서의 변화
 ③ 엔트로피의 증가
 ④ 등적변화
33. 10°C와 85°C 사이의 물을 열원으로 역카르노 사이클로 작동되는 냉동기(°C)와 히트펌프(°H)의 성적계수는 각각 얼마인가?
 ① °C = 1.00, °H = 2.00
 ② °C = 2.12, °H = 3.12
 ③ °C = 2.93, °H = 3.93
 ④ °C = 3.78, °H = 4.78

34. 팽창밸브가 과도하게 닫혔을 때 생기는 현상이 아닌 것은?
 ① 증발기의 성능 저하
 ② 흡입가스의 과열
 ③ 냉동능력 증가
 ④ 토출가스의 온도상승
35. 공랭식 응축기에 있어서 냉매가 응축하는 온도는 어떻게 결정하는가?
 ① 대기의 온도보다 30°C(54°F) 높게 잡는다.
 ② 대기의 온도보다 19°C(35°F) 높게 잡는다.
 ③ 대기의 온도보다 10°C(18°F) 높게 잡는다.
 ④ 증발기 속의 냉매 증기를 과열도에 따라 높은 온도로 잡는다.
36. 흡수식 냉동기에 대한 설명 중 옳은 것은?
 ① H₂O + LiBr계에서는 응축 측에서 비체적이 커지므로 대용량은 공랭식화가 곤란하다.
 ② 압축기는 없으나, 발생기 등에서 사용되는 전력량은 압축식 냉동기보다 많다.
 ③ H₂O + LiBr계나 H₂O + NH₃계에서는 흡수제가 H₂O이다.
 ④ 공기조화용으로 많이 사용되나, H₂O + LiBr계는 0°C 이하의 저온을 얻을 수 있다.
37. 온도식 팽창밸브에서 흐르는 냉매의 유량에 영향을 미치는 요인이 아닌 것은?
 ① 오리피스 구경의 크기
 ② 고·저압 측 간의 압력차
 ③ 고압 측 액상 냉매의 냉매온도
 ④ 감온통의 크기
38. 암모니아 냉동장치에 대한 설명 중 옳은 것은?
 ① 압축비가 증가하면 체적 효율도 증가한다.
 ② 표준 냉동 사이클로 운전할 경우 R-12에 비해 토출가스의 온도가 낮다.
 ③ 기밀시험에 산소가스를 이용하는 것은 폭발의 가능성이 없기 때문이다.
 ④ 증발압력 조정밸브를 설치하는 것은 냉매의 증발 압력을 일정 이상으로 유지하기 위해서다.
39. 할로겐 원소에 해당되지 않는 것은?
 ① 물소[F]
 ② 수소[H]
 ③ 염소[Cl]
 ④ 브롬[Br]
40. 다음 열역학적 설명으로 옳지 않은 것은?
 ① 물체의 순간(현재)상태 만에 관계하는 양을 상태량이라 하며 열량과 일 등은 상태량이다.
 ② 평형을 유지하면서 조용히 상태변화가 일어나는 과정은 준 정적변화이며 가역 변화라고 할 수 있다.
 ③ 내부에너지는 그 물질의 분자가 임의 온도 하에서 갖는 역학적 에너지의 총합이라고 할 수 있다.
 ④ 온도는 내부에너지에 비례하여 증가한다.

[3과목] 배관일반 (20문제)

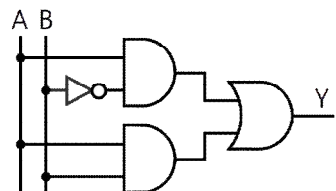
41. 흠(Hume)관이라고도 하는 관은?
 ① 주철관
 ② 경질염화비닐관
 ③ 폴리에틸렌관
 ④ 원심력 철근콘크리트관
42. 가스배관의 기밀시험 방법에 관한 설명으로 옳은 것은?
 ① 질소 등의 불활성 가스를 사용하여 시험한다.
 ② 수압(水壓)시험을 한다.
 ③ 매설 후 산소를 사용하여 시험한다.
 ④ 배관의 무식에 의하여 시험한다.
43. 열팽창에 의한 배관의 신축이 방열기에 영향을 주지 않도록 방열기 주위 배관에 일반적으로 설치하는 신축이음쇠는?
 ① 신축곡관 ② 스위블 조인트
 ③ 슬리브형 신축이음 ④ 벨로스형 신축이음
44. 관의 결합방식 표시방법 중 용접식 기호로 옳은 것은?
 ①  ② 
 ③  ④ 
45. 급탕배관에 대한 설명으로 옳지 않은 것은?
 ① 공기빼기 밸브를 설치한다.
 ② 벽 관통 시 슬리브를 넣어서 신축을 자유롭게 한다.
 ③ 관의 부식을 고려하여 노출배관하는 것이 좋다.
 ④ 배관의 신축은 고려하지 않아도 좋다.
46. 냉각탑을 사용하는 경우의 일반적인 냉각수 온도 조절 방법이 아닌 것은?
 ① 전동 2way valve를 사용하는 방법
 ② 전동 혼합 3way valve를 사용하는 방법
 ③ 전동 분류 4way valve를 사용하는 방법
 ④ 냉각탑 송풍기를 on-off 제어하는 방법
47. 3세주형 주철제방열기 3-600을 설치할 때 사용증기의 온도가 120°C이고, 실내공기의 온도가 20°C, 난방부하 10000kcal/h를 필요로 하면 설치할 방열기의 소요 쪽수는 얼마인가? (단, 방열계수는 7.9(kcal/m²h°C)이고, 1쪽당 방열면적은 0.13m²이다.)
 ① 88쪽 ② 98쪽
 ③ 108쪽 ④ 118쪽
48. 트랩의 봉수 유실 원인이 아닌 것은?
 ① 증발작용 ② 모세관작용
 ③ 사이펀 작용 ④ 배수작용
49. 컴퓨터실의 공조방식 중 바닥 아래 송풍방식(프리액세스 취출방식)의 특징이 아닌 것은?
 ① 컴퓨터에 일정 온도의 공기 공급이 용이하다.
 ② 급기의 청정도가 천장 취출방식보다 높다.
 ③ 바닥온도가 낮게 되고 불쾌감을 느끼는 경우가 있다.
 ④ 온습도 조건이 국소적으로 불만족한 경우가 있다.

50. 연단에 아마인유를 배합한 것으로 녹스는 것을 방지하기 위하여 사용되며 도로의 막이 굳어서 풍화에 대해 강하고 다른 착색도료의 밀칠용으로 널리 사용되는 것은?
 ① 알루미늄 도료 ② 광명단 도료
 ③ 합성수지 도료 ④ 산화철 도료
51. 도시가스를 공급하는 배관의 종류가 아닌 것은?
 ① 본관 ② 공급관
 ③ 내관 ④ 주관
52. 냉매배관 중 토출 측 배관 시공에 관한 실명으로 틀린 것은?
 ① 응축기가 압축기보다 높은 곳에 있을 때 2.5m보다 높은 면 트랩 장치를 한다.
 ② 수직관이 너무 높으면 2m마다 트랩을 1개씩 설치한다.
 ③ 토출관의 합류는 Y이음으로 한다.
 ④ 수평관은 모두 끝 내림 구배로 배관한다.
53. 하나의 장치에서 4방 밸브를 조작하여 냉·난방 어느 쪽도 사용할 수 있는 공기조화용 펌프는?
 ① 열펌프 ② 냉각펌프
 ③ 원심펌프 ④ 왕복펌프
54. 나사용 패킹으로 냉매배관에 많이 사용되며 빨리 굳는 성질을 가진 것은?
 ① 일산화연 ② 페인트
 ③ 석면각형 패킹 ④ 아마존 패킹
55. 증기난방 설비의 수평배관에서 관경을 바꿀 때 사용하는 이음쇠로 가장 적합한 것은?
 ① 편심 리듀서 ② 동심 리듀서
 ③ 유니언 ④ 소켓
56. 공기 여과기의 분진포집 원리에 의해 분류한 집진형식에 해당되지 않는 것은?
 ① 정전식 ② 여과식
 ③ 가스식 ④ 충돌점착식
57. 도시가스 배관의 나사이음부와 전기계량기 및 전기개폐기의 거리로 옳은 것은?
 ① 10cm 이상 ② 30cm 이상
 ③ 60cm 이상 ④ 80cm 이상
58. 배수계통에 설치된 통기관의 역할과 거리가 먼 것은?
 ① 사이펀 작용에 의한 트랩의 봉수 유실을 방지한다.
 ② 배수관 내를 대기압과 같게 하여 배수 흐름을 원활히 한다.
 ③ 배수관 내로 신선한 공기를 유통시켜 관 내를 청결히 한다.
 ④ 하수관이나 배수관으로부터 유해가스의 옥내 유입을 방지한다.

59. 배수배관의 시공상 주의사항으로 틀린 것은?
 ① 배수를 가능한 한 빨리 옥외 하수관으로 유출할 수 있을 것
 ② 옥외 하수관에서 유해가스가 건물 안으로 침입하는 것을 방지할 수 있을 것
 ③ 배수관 및 통기관은 내구성이 풍부하고 물이 새지 않도록 접합을 완벽히 할 것
 ④ 한랭지일 경우 동결 방지를 위해 배수관은 반드시 피복을 하며 통기관은 그대로 둘 것
60. 호칭지름 25A인 강관을 R150으로 90°C 구부릴 경우 곡선부의 길이는 약 몇 mm인가? (단, π는 3.14이다.)
 ① 118mm ② 236mm
 ③ 354mm ④ 547mm

[4과목] 전기제어공학 (20문제)

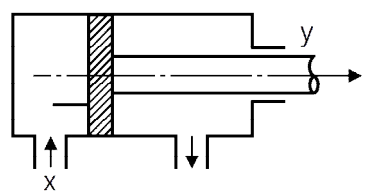
61. 그림과 같은 논리회로의 출력 Y는?



- ① $Y = AB + A\bar{B}$ ② $Y = \bar{A}B + AB$
 ③ $Y = \bar{A}B + A\bar{B}$ ④ $Y = \bar{A}\bar{B} + A\bar{B}$

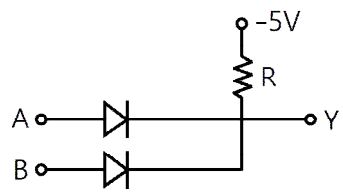
62. PC에 의한 계측에 있어, 센서에서 측정된 데이터를 PC에 전달하기 위해 필요한 필수적인 요소는?
 ① A/D 변환기 ② D/A 변환기
 ③ RAM ④ ROM

63. 그림과 같이 실린더의 한쪽으로 단위시간에 유입하는 유체의 유량을 x(t)라 하고 피스톤의 움직임을 y(t)로 한다. 시간이 경과한 후의 전달함수를 구해보면 어떤 요소가 되는가?



- ① 비례요소 ② 미분요소
 ③ 적분요소 ④ 미적분요소

64. 그림과 같은 회로는 어떤 논리회로인가?



- ① AND 회로 ② OR 회로
 ③ NOT 회로 ④ NOR 회로

