

**2012년 1회 건축산업기사 필기시험 기출문제 답안**

<b>【1과목 : 20문제】</b> 건축계획	<b>1</b>	<b>2</b>	<b>3</b>	<b>4</b>	<b>5</b>	<b>6</b>	<b>7</b>	<b>8</b>	<b>9</b>	<b>10</b>
	다	다	라	나	라	다	라	나	다	다
	<b>11</b>	<b>12</b>	<b>13</b>	<b>14</b>	<b>15</b>	<b>16</b>	<b>17</b>	<b>18</b>	<b>19</b>	<b>20</b>
	라	나	가	라	다	나	나	나	다	나
<b>【2과목 : 20문제】</b> 건축시공	<b>21</b>	<b>22</b>	<b>23</b>	<b>24</b>	<b>25</b>	<b>26</b>	<b>27</b>	<b>28</b>	<b>29</b>	<b>30</b>
	라	나	라	라	다	가	라	가	가	다
	<b>31</b>	<b>32</b>	<b>33</b>	<b>34</b>	<b>35</b>	<b>36</b>	<b>37</b>	<b>38</b>	<b>39</b>	<b>40</b>
	라	나	다	나	가	가	라	가	라	라
<b>【3과목 : 20문제】</b> 건축구조	<b>41</b>	<b>42</b>	<b>43</b>	<b>44</b>	<b>45</b>	<b>46</b>	<b>47</b>	<b>48</b>	<b>49</b>	<b>50</b>
	다	가	다	라	가	다	나	라	다	다
	<b>51</b>	<b>52</b>	<b>53</b>	<b>54</b>	<b>55</b>	<b>56</b>	<b>57</b>	<b>58</b>	<b>59</b>	<b>60</b>
	라	다	가	라	가	다	다	라	다	나
<b>【4과목 : 20문제】</b> 건축설비	<b>61</b>	<b>62</b>	<b>63</b>	<b>64</b>	<b>65</b>	<b>66</b>	<b>67</b>	<b>68</b>	<b>69</b>	<b>70</b>
	가	나	라	가	가	가	나	다	라	나
	<b>71</b>	<b>72</b>	<b>73</b>	<b>74</b>	<b>75</b>	<b>76</b>	<b>77</b>	<b>78</b>	<b>79</b>	<b>80</b>
	라	나	다	다	다	가	다	라	나	가
<b>【5과목 : 20문제】</b> 건축관계법규	<b>81</b>	<b>82</b>	<b>83</b>	<b>84</b>	<b>85</b>	<b>86</b>	<b>87</b>	<b>88</b>	<b>89</b>	<b>90</b>
	나	라	라	라	나	다	다	다	라	라
	<b>91</b>	<b>92</b>	<b>93</b>	<b>94</b>	<b>95</b>	<b>96</b>	<b>97</b>	<b>98</b>	<b>99</b>	<b>100</b>
	다	라	가	라	다	라	다	나	가	나

합격점수는 100점 만점에 60점(100문제 중 60문제) 이상입니다.

단, 과목별 100점 만점에 40점(20문제 중 8문제) 이상 득점하지 못한 과목이 있으면 과목낙제로 실격됩니다.

【오답 및 오타 문의】 [건시시스템\(gunsys.com\)](http://gunsys.com)

본 문제지 파일에 수록된 기출문제 원저작권은 자격검정 시행기관인 한국산업인력공단에 있으며, 건시시스템에서는 편집 및 재구성 작업만 하였음을 밝힙니다.

※ 아래 여백은 메모 용도로 활용하세요.

**[1과목] 건축계획 (20문제)**

1. 다음 중 주택의 부엌 계획에서 작업 삼각형(Work triangle)의 세변의 합으로 가장 적정한 것은?  
 가. 2,000mm                      나. 3,200mm  
 다. 5,000mm                      라. 7,000mm
  
2. 다음과 같은 조건에서 요구되는 침실의 최소 바닥면적은?  
 - 성인 3인용 침실  
 - 침실의 천장 높이 : 2.5m  
 - 실내 자연환기 회수 : 3회/h  
 - 성인 1인당 필요로 하는 신선한 공기요구량 : 50m<sup>3</sup>/h  
 가. 10m<sup>2</sup>                              나. 15m<sup>2</sup>  
 다. 20m<sup>2</sup>                              라. 30m<sup>2</sup>
  
3. 학교 건축에서 단층교사에 관한 설명으로 옳지 않은 것은?  
 가. 재해 시 피난이 용이하다.  
 나. 학습활동의 실외 연장이 가능하다.  
 다. 구조계획이 단순하며 내진, 내풍구조가 용이하다.  
 라. 집약적인 평면계획이 가능하나 채광, 환기가 불리하다.
  
4. 학교 건축계획 시 고려하여야 할 사항으로 옳지 않은 것은?  
 가. 교실의 융통성이 확보되어야 한다.  
 나. 지역인의 접근 가능성이 차단되어야 한다.  
 다. 교과내용의 변화에 적응할 수 있어야 한다.  
 라. 학교운영방식의 변화에 대응할 수 있어야 한다.
  
5. 주택지의 단위 중 인보구의 중심시설에 해당하는 것은?  
 가. 유치원  
 나. 파출소  
 다. 초등학교  
 라. 어린이놀이터
  
6. 아파트의 단면 형식 중 스킵플로어형에 관한 설명으로 옳지 않은 것은?  
 가. 엘리베이터의 효율적인 운행이 가능하다.  
 나. 복도가 설치되지 않는 층에서 대피에 대한 고려가 요구된다.  
 다. 액세스(Access) 동선이 단순하여 설비나 구조계획이 용이하다.  
 라. 각기 다른 세대의 평면계획으로 단면 및 입면상의 다양한 변화가 가능하다.
  
7. 다음 중 아파트의 성립 요인과 가장 거리가 먼 것은?  
 가. 도시의 지가 상승  
 나. 도시의 평면적 확대  
 다. 도시의 인구밀도 증가  
 라. 토지 소유에 대한 의식 증가
  
8. 사무소 건축에서 사무실의 깊이(L)와 층고(H)의 비율로 가장 적절한 것은?  
 가. L/H = 1.2                              나. L/H = 2.0  
 다. L/H = 2.8                              라. L/H = 3.5

9. 1주간 평균수업시간이 40시간인 어느 학교의 음악교실이 사용되는 시간이 20시간이며 그 중 5시간은 영어수업을 위해 사용된다. 이 음악교실의 이용률과 순수율은?  
 가. 이용률 : 50%, 순수율 : 50%  
 나. 이용률 : 25%, 순수율 : 50%  
 다. 이용률 : 50%, 순수율 : 75%  
 라. 이용률 : 25%, 순수율 : 75%
  
10. 공장 건축계획에 대한 설명 중 옳지 않은 것은?  
 가. 계획 시부터 증축에 대한 고려를 해야 한다.  
 나. 평면은 가능한 요철이 없는 형이 바람직하다.  
 다. 파빌리온형(Pavilion type)의 공장 형식은 통풍, 채광이 좋지 않다.  
 라. 공장 건축의 레이아웃 중 고정식 레이아웃은 조선소와 같이 제품이 크고 수량이 적은 경우에 행해진다.
  
11. 다음 중 아파트의 주동계획에서 지상에 필로티를 두는 이유와 가장 관계가 먼 것은?  
 가. 개방감의 확보  
 나. 원활한 보행동선의 연결  
 다. 오픈스페이스로서의 활용 가능  
 라. 용적률의 감축 및 공사비 절감
  
12. 사무소 건축의 코어 계획에 관한 설명으로 옳지 않은 것은?  
 가. 코어 내의 계단, 화장실, 엘리베이터는 가능한 근접하여 배치한다.  
 나. 엘리베이터의 설치 대수가 6대 이상일 경우 직선형으로 배치한다.  
 다. 코어 내의 서비스 공간과 업무 사무실과의 동선을 단순하게 처리한다.  
 라. 코어의 위치와 코어 내의 각 공간의 위치가 시각적으로 명확하게 배치한다.
  
13. 전면유리로 되어있어 일반 상점가에 많이 사용되는 숍프론트(Shop front) 형식은?  
 가. 개방형                                      나. 폐쇄형  
 다. 혼합형                                      라. 분리형
  
14. 다음과 같은 특징을 갖는 사무소 건축의 코어 유형은?  
 - 단일 용도의 대규모 전용 사무실에 적합한 유형이다.  
 - 2방향 피난에 이상적이며, 방재 및 피난상 유리하다.  
 가. 외코어형  
 나. 중심코어형  
 다. 편심코어형  
 라. 양단코어형
  
15. 상점의 정면(Facade) 구성에 요구되는 5가지 광고요소에 해당하지 않는 것은?  
 가. 행동(Action)  
 나. 기억(Memory)  
 다. 동의(Agreement)  
 라. 주의(Attention)

16. 상점의 진열대 배치유형 중 직렬형에 관한 설명으로 옳지 않은 것은?  
 가. 협소한 매장에 적합하다.  
 나. 굴절형에 비하여 상품의 전달 및 고객의 동선상 흐름이 늦다.  
 다. 진열대를 일직선 형태로 배열한 형식으로 통로가 직선으로 구성된다.  
 라. 부분별로 상품 진열이 용이하고 대량 판매형식도 가능한 배치유형이다.

17. 백화점 건축에서 다음과 같은 특징을 갖는 에스컬레이터 배치 유형은?

- 점유면적이 크다.  
 - 고객의 시야가 다른 유형에 비해 가장 넓다.

- 가. 교차식 배치            나. 직렬식 배치  
 다. 병렬 단속식 배치    라. 병렬 연속식 배치

18. 주택에서 주방의 일부에 간단한 식탁을 설치하거나 식사실과 주방이 하나로 구성된 형태는?  
 가. 독립형(D형)  
 나. 다이닝 키친(DK형)  
 다. 리빙 다이닝(LD형)  
 라. 다이닝 테라스(DT형)

19. 공장 건축의 지붕형식에 관한 설명으로 옳지 않은 것은?  
 가. 솟을지붕은 채광 및 자연환기에 적합한 형식이다.  
 나. 평지붕은 가장 단순한 형식으로 2~3층의 복층식 공장 건축물의 최상층에 적용된다.  
 다. 사면구조 지붕은 최근에 많이 사용되는 유형으로 기둥이 많이 필요하다는 단점이 있다.  
 라. 톱날지붕은 북향의 채광창을 통한 약한 광선의 유입으로 작업능률에 지장이 없는 형식이다.

20. 사무소 건축에서 유효율(Rentable ratio)이 의미하는 것은?  
 가. 연면적과 대지면적의 비  
 나. 임대면적과 연면적의 비  
 다. 업무공간과 공용공간의 비  
 라. 기준층의 바닥면적과 연면적의 비

**【2과목】 건축시공 (20문제)**

21. 시멘트모르타르 바르기에 관한 기술 중 옳지 않은 것은?  
 가. 실내의 미장바름 순서는 천장, 벽, 바닥 순으로 한다.  
 나. 초벌바름에서 건조한 바탕에는 물축이기를 한다.  
 다. 고름질 후 약 2주일 간 방치하여 균열이 충분히 진행된 후 재벌바름을 한다.  
 라. 정벌바름에서는 나무흙손을 사용하여 바름 경우 바른면이 거칠고 흙손 자국이 나기 쉬우므로 쇠흙손을 사용한다.
22. 철근콘크리트기둥의 단면이 0.4×0.5m이고 길이가 10m일 때 이 기둥의 중량은?  
 가. 3.6t                    나. 4.8t  
 다. 6t                      라. 6.4t

23. 콘크리트를 부어 넣은 후 거푸집의 탈형을 용이하게 하기 위해 미리 거푸집면에 도포하는 약제를 무엇이라고 하는가?  
 가. 혼화제                    나. 경화제  
 다. 도포제                    라. 박리제

24. 벽돌벽면에 균열이 생기는 이유가 아닌 것은?  
 가. 벽돌 벽의 부분적인 시공 결함  
 나. 큰 집중하중과 횡력 및 충격  
 다. 문꼴 크기의 불합리한 배치  
 라. 신축줄눈이나 조절줄눈 설치

25. 고로 슬래그 미분말을 혼화재로 사용한 콘크리트의 특징에 대한 설명으로 옳지 않은 것은?  
 가. 초기강도가 낮다.  
 나. 블리딩이 적고 유동성이 향상된다.  
 다. 알칼리골재반응이 촉진된다.  
 라. 콘크리트의 온도상승 억제 효과가 있다.

26. 지붕재료로서 요구되는 성능으로 옳지 않은 것은?  
 가. 방화적이고 열전도가 잘 될 것  
 나. 수밀성이 높고 내수적일 것  
 다. 가볍고 내구성이 클 것  
 라. 시공이 용이하고 내후적일 것

27. 구조체의 수량 산출 시에 거푸집 면적에서 공제해야 되는 항목은?  
 가. 기둥과 벽체의 접합부 면적  
 나. 기초와 지중보의 접합부 면적  
 다. 기둥과 보의 접합부 면적  
 라. 1㎡를 초과하는 개구부의 면적

28. 다음 중 커튼월의 패널부착방식에 따른 분류에 속하지 않는 것은?  
 가. 멀리온방식                나. 슬라이딩방식  
 다. 로킹방식                  라. 고정방식

29. 공사 도급계약을 할 때 필히 첨부하지 않아도 되는 서류는?  
 가. 구조계산서                나. 시방서  
 다. 도급계약서                라. 설계도

30. 다음 미장공사 재료 중 기경성 재료는?  
 가. 순석고플라스터            나. 혼합석고플라스터  
 다. 돌로마이트플라스터      라. 시멘트모르타르

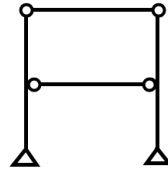
31. 다음 중 철골 접합의 용접 종료 후에 실시하는 비파괴검사가 아닌 것은?  
 가. 외관검사                    나. 침투탐상검사  
 다. 초음파탐상검사            라. 운봉검사

32. 철근콘크리트의 골재로서 해사(海沙)를 사용할 경우 특히 취해야 할 조치는?  
 가. 잔골재의 혼합비를 많게 한다.  
 나. 충분히 물로 씻어 낸다.  
 다. 조강 포틀랜드 시멘트를 사용한다.  
 라. 충분히 건조시킨다.

33. 흙의 휴식각과 관련한 터파기 경사각도로서 옳은 것은?  
 가. 휴식각의 1/2로 한다.  
 나. 휴식각과 같게 한다.  
 다. 휴식각의 2배로 한다.  
 라. 휴식각의 3배로 한다.
34. 방부성이 우수하지만 약취가 나고, 흑갈색으로 외관이 불미하므로 눈에 보이지 않는 토대, 기둥, 도리 등에 사용되는 방부제는?  
 가. P.C.P  
 나. 크레오소트 유  
 다. 콜타르  
 라. 에나멜페인트
35. 다음 유리의 종류 중 방화 및 방재용으로 사용되는 유리는?  
 가. 망입유리  
 나. 보통판유리  
 다. 강화유리  
 라. 복층유리
36. 다음 중 콘크리트의 건조수축에 대한 설명으로 옳은 것은?  
 가. 시멘트의 성분 중 C3A는 건조수축을 증가시킨다.  
 나. 바다모래에 포함된 염분은 그 양이 많으면 건조수축을 감소시킨다.  
 다. AE제나 감수제는 단위수량을 감소시켜 건조수축을 증가시킨다.  
 라. 골재 중에 포함된 미립분이나 점토, 실트는 일반적으로 건조수축을 감소시킨다.
37. 시멘트액체방수공사와 관련된 설명 중 옳지 않은 것은?  
 가. 지하방수나 소규모의 지붕방수 등에 사용되는 경우가 많다.  
 나. 시멘트액체방수의 바탕은 깨끗하고 거칠게 하는 것이 모르타르와 의 부착을 좋게 한다.  
 다. 비교적 저렴하고 시공이 용이한 방수공법이다.  
 라. 얇은 막상의 방수층을 형성시키는 멤브레인 방수공법에 속한다.
38. 철근콘크리트공사에서 거푸집의 조립 순서로 옳은 것은?  
 가. 기초→기둥→내벽→큰보→작은보→바닥→외벽  
 나. 기초→기둥→큰보→작은보→내벽→바닥→외벽  
 다. 기초→기둥→큰보→작은보→외벽→바닥→내벽  
 라. 기초→기둥→내벽→바닥→큰보→작은보→외벽
39. 다음 중 콘크리트 타설과 가장 관계가 먼 것은?  
 가. Concrete mixer  
 나. Floor hopper  
 다. Vibrator  
 라. Bar bender
40. 다음 시멘트 중 혼합 시멘트에 해당하지 않는 것은?  
 가. 고로 시멘트  
 나. 포틀랜드 포졸란 시멘트  
 다. 플라이 애시 시멘트  
 라. 조강 포틀랜드 시멘트

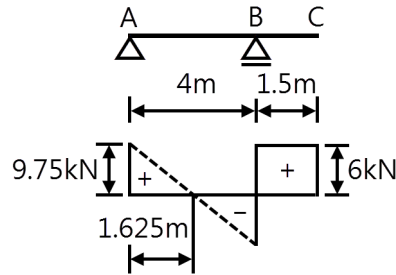
**[3과목] 건축구조 (20문제)**

41. 그림과 같은 구조물의 판별로 옳지 않은 것은?



- 가. 반력수는 4이다.      나. 부재수는 6이다.  
 다. 강절점수는 0이다.      라. 절점수는 6이다.

42. 그림과 같은 보에서 전단력도를 보고 B지점에 발생하는 휨모멘트를 구하면 얼마인가? (단, 절대값으로 표현)



- 가. 9kN-m      나. 7.75kN-m  
 다. 5.03kN-m      라. 3.92kN-m

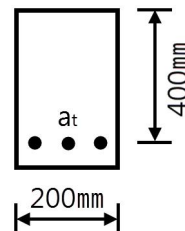
43. 다음 중 압축부재에서 세장비를 구할 때 필요 없는 것은?

- 가. 부재길이      나. 단부 지점 조건  
 다. 탄성계수      라. 단면2차반경

44. 강도설계법에 의한 철근콘크리트 플랫슬래브 설계 시 지판의 슬래브 아래로 돌출한 두께는 돌출부를 제외한 슬래브 두께가 300mm일 때 최소 얼마 이상으로 하여야 하는가?

- 가. 20mm      나. 40mm  
 다. 60mm      라. 75mm

45. 그림과 같은 단면을 가지는 철근콘크리트보의 균형철근비( $\rho_b$ )는 얼마인가? (단, 콘크리트의 압축강도는 30MPa, 철근의 항복강도는 450MPa, 철근의 탄성계수는  $2.0 \times 10^5$ MPa이며, 인장철근의 단면적은  $2,000\text{mm}^2$ 이다.)



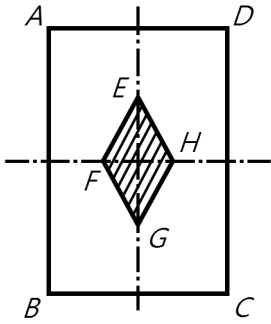
- 가. 0.027      나. 0.037  
 다. 0.04      라. 0.057

46. 철근콘크리트보에서 중립축의 깊이( $c$ )가 220mm이고, 최외단 압축연단에서 최외단 인장철근까지의 거리( $dt$ )가 550mm라 한다. 이때의 강도감소계수를 구하면? (단,  $f_y = 400\text{MPa}$ )

- 가. 0.625      나. 0.764  
 다. 0.817      라. 0.925



60. 다음 그림의 빗금친 마름모가 단면의 핵을 나타낸다고 할 때 (FH)/(BC)는?



- 가. 1/2                      나. 1/3
- 다. 1/4                      라. 1/6

**[4과목] 건축설비 (20문제)**

61. 백화점 화장실에서 일반적으로 사용되는 환기방식은?

- 가. 자연급기-강제배기
- 나. 자연급기-자연배기
- 다. 강제급기-자연배기
- 라. 강제급기-강제배기

62. 다음 설명에 알맞은 통기방식은?

- 각 기구의 트랩마다 통기관을 설치한다.
- 트랩마다 통기되기 때문에 가장 안정도가 높은 방식이다.

- 가. 루프통기방식            나. 각개통기방식
- 다. 신정통기방식        라. 회로통기방식

63. 다음 설명에 알맞은 밸브의 종류는?

- 관로를 전개할 목적으로 사용된다.
- 밸브를 완전히 열면 배관경과 밸브의 구경이 동일하므로 유체의 저항이 적다.

- 가. 체크밸브                나. 앵글밸브
- 다. 글로브밸브            라. 게이트밸브

64. 옥외소화전을 2개 설치한 건물에서 옥외소화전설비의 수원의 저수량은 최소 얼마 이상이 되도록 하여야 하는가?

- 가. 14m<sup>3</sup>                      나. 7.0m<sup>3</sup>
- 다. 5.2m<sup>3</sup>                      라. 2.6m<sup>3</sup>

65. 다음 설명에 알맞은 배선방법은?

- 사용 장소는 은폐장소, 노출장소, 옥내, 옥외 등 광범위하게 사용할 수 있다.
- 외부적 응력에 대해 전선보호의 신뢰성이 높고 외부에 대한 고주파 영향이 없다.

- 가. 금속관배선              나. 금속몰드배선
- 다. 합성수지관배선        라. 플로어덕트배선

66. 동일 특성을 갖는 펌프 2대를 직렬로 연결하여 운전할 경우에 관한 설명으로 옳은 것은? (단, 배관의 마찰저항이 없다고 가정한다.)

- 가. 유량은 변하지 않고 양정은 2배로 높아진다.
- 나. 양정은 변하지 않고 유량은 2배로 높아진다.
- 다. 유량은 변하지 않고 양정은 4배로 높아진다.
- 라. 양정은 변하지 않고 유량은 4배로 높아진다.

67. 다음의 전원설비와 관련된 설명 중 ( ) 안에 알맞은 용어는?

수전점에서 변압기 1차측까지의 기기 구성을 ( ㉠ ) 라 하고, 변압기에서 전력부하설비의 배전반까지를 ( ㉡ ) 라 한다.

- 가. ㉠ 배전설비, ㉡ 수전설비
- 나. ㉠ 수전설비, ㉡ 배전설비
- 다. ㉠ 간선설비, ㉡ 동력설비
- 라. ㉠ 동력설비, ㉡ 간선설비

68. 가옥트랩으로서 공공하수관으로부터 해로운 하수가스가 집안으로 침입하는 것을 방지하기 위해 사용되는 것은?

- 가. P트랩                      나. S트랩
- 다. U트랩                      라. 드림트랩

69. 증기난방에 관한 설명으로 옳은 것은?

- 가. 온수난방에 비해 예열시간이 길다.
- 나. 온수난방에 비해 한랭지에서 동결의 우려가 크다.
- 다. 간헐난방을 필요로 하는 학교 등의 난방에 이용이 곤란하다.
- 라. 온수난방에 비해 부하변동에 따른 실내방열량의 제어가 곤란하다.

70. 간접조명의 경우 등기구 사이의 간격으로 가장 적당한 것은? (단, H=작업면에서 등기구까지의 높이, S=등기구 사이의 간격)

- 가.  $S \leq H$                       나.  $S \leq 1.5H$
- 다.  $S \leq H/2$                       라.  $S \leq H/3$

71. 다음과 같은 조건에 있는 아파트 외벽의 열손실량은?

- 벽체의 크기 : 2×3m
- 벽체의 열관류율 : 1.2Wm<sup>2</sup>·K
- 실내온도 : 10°C
- 외기온도 : -5°C
- 방위계수 : 1.1

- 가. 36W                      나. 79.2W
- 다. 98.2W                      라. 118.8W

72. 어느 건물에서 옥내소화전의 설치개수가 가장 많은 층의 설치 개수가 7개인 경우, 옥내소화전설비의 수원의 저수량은 최소 얼마 이상이 되도록 하여야 하는가?

- 가. 7.8m<sup>3</sup>                      나. 13m<sup>3</sup>
- 다. 18.2m<sup>3</sup>                      라. 26m<sup>3</sup>

73. 전압의 구분에서 특고압의 기준은?  
 가. 3kV를 초과하는 것  
 나. 5kV를 초과하는 것  
 다. 7kV를 초과하는 것  
 라. 10kV를 초과하는 것
74. 다음 중 보일러의 용량 결정과 가장 관계가 먼 것은?  
 가. 예열부하                      나. 급탕부하  
 다. 냉방부하                      라. 배관부하
75. 급탕설비에 관한 설명으로 옳은 것은?  
 가. 중앙식 급탕법은 급탕개소가 적은 경우에 주로 채용된다.  
 나. 국소식 급탕법은 배관에 의해 필요개소에 어디든지 급탕할 수 있다.  
 다. 간접가열식에 사용되는 가열보일러는 난방용보일러와 겸용할 수 있다.  
 라. 직접가열식은 열효율이 간접가열식에 비해 떨어지나 안정된 급탕을 할 수 있다.
76. 빙축열시스템에 관한 설명으로 옳지 않은 것은?  
 가. 냉동기의 용량은 커지나 가동률은 높아진다.  
 나. 얼음의 잠열을 이용하여 빙축열조가 필요하다.  
 다. 값싼 심야전력을 이용하며 전력의 피크부하를 감소시킨다.  
 라. 백화점 등 냉방부하가 크고 냉방기간이 긴 건물에 적합하다.
77. 초고층 건물에서 급수압력의 균등화를 위해 조닝(Zoning)을 하여야 하는데, 다음 중 고가수조를 설치하는 경우의 조닝방식에 속하지 않는 것은?  
 가. 중간수조방식  
 나. 감압밸브방식  
 다. 펌프분리방식  
 라. 중간수조, 감압밸브병용방식
78. 펌프의 전압정이 100m, 양수량이 12m<sup>3</sup>/h일 때, 펌프의 축동력은? (단, 펌프의 효율은 60%이다.)  
 가. 약 3.5kW                      나. 약 4.0kW  
 다. 약 4.5kW                      라. 약 5.5kW
79. 다음 중 위생성 측면에서 가장 바람직한 급수방식은?  
 가. 고가탱크방식                      나. 수도직결방식  
 다. 압력탱크방식                      라. 펌프직송방식
80. 어느 점광원과 1m 떨어진 곳의 직각면 조도가 100lx일 때, 이 광원과 2m 떨어진 곳의 직각면 조도는? (단, 단위는 lx)  
 가. 25                                  나. 50  
 다. 75                                  라. 100

82. 건축물의 건축허가신청 시 에너지절약계획서를 제출하여야 하는 대상 건축물에 해당하지 않는 것은?  
 가. 업무시설로서 그 용도에 사용되는 바닥면적의 합계가 1,000m<sup>2</sup>인 건축물  
 나. 의료시설로서 그 용도에 사용되는 바닥면적의 합계가 2,000m<sup>2</sup>인 건축물  
 다. 교육연구시설 중 연구소로서 당해 용도에 사용되는 바닥면적의 합계가 3,000m<sup>2</sup>인 건축물  
 라. 제1종 근린생활시설 중 목욕장으로서 당해 용도에 사용되는 바닥면적의 합계가 300m<sup>2</sup>인 건축물
83. 공동주택의 난방설비를 개별난방방식으로 하는 경우에 대한 기준 내용으로 옳지 않은 것은?  
 가. 보일러의 윗부분에는 그 면적이 0.5m<sup>2</sup> 이상인 환기창을 설치할 것  
 나. 기름보일러를 설치하는 경우에는 기름저장소를 보일러실 외의 다른 곳에 설치할 것  
 다. 보일러는 거실 외의 곳에 설치하되, 보일러를 설치하는 곳과 거실사이의 경계벽은 출입구를 제외하고는 내화구조의 벽으로 구획할 것  
 라. 보일러실의 환기를 위하여 윗부분과 아랫부분에 지름 8cm 이상의 공기흡입구 및 배기구를 항상 열려있는 상태로 바깥공기에 접하도록 설치할 것

84. 건축법령상 건축(건축행위)에 속하지 않는 것은?  
 가. 개축                                  나. 재축  
 다. 이전                                  라. 대수선
85. 지표면으로부터 건축물의 지붕틀 또는 이와 비슷한 수평재를 지지하는 벽, 깔도리 또는 기둥의 상단까지의 높이로 산정하는 것은?  
 가. 층고                                  나. 처마높이  
 다. 반자높이                          라. 바닥높이
86. 다음의 대지 안의 공지에 관한 기준 내용 중 ( ) 안에 알맞은 것은?

건축물을 건축하는 경우에는 "국토의 계획 및 이용에 관한 법률"에 따른 용도지역, 용도지구, 건축물의 용도 및 규모 등에 따라 건축선 및 인접대지경계선으로부터 ( ) 이내의 범위에서 대통령령으로 정하는 바에 따라 해당 지방자치단체의 조례로 정하는 거리 이상 띄워야 한다.

- 가. 2m                                  나. 4m  
 다. 6m                                  라. 8m
87. 하나의 대지가 녹지지역과 그 밖의 용도지역, 용도지구 또는 용도구역에 걸쳐 있는 경우 적용 기준으로 옳은 것은? (단, 녹지지역의 건축물이 고도지구 또는 방화지구에 걸쳐있지 않은 경우)  
 가. 특별시, 광역시, 시 또는 군의 조례에 의한다.  
 나. 녹지지역의 건축물 및 토지에 관한 규정을 적용한다.  
 다. 각자의 용도지역, 용도지구 또는 용도구역의 건축물 및 토지에 관한 규정을 적용한다.  
 라. 그 대지 중 가장 넓은 면적이 속하는 용도지역, 용도지구 또는 용도구역의 건축물 및 토지에 관한 규정을 적용한다.

**[5과목] 건축관계법규 (20문제)**

81. 다음 중 연면적의 합계가 5,000m<sup>2</sup>인 건축물로서 공개공지 또는 공개공간을 확보하여야 하는 대상 건축물에 해당하지 않는 것은? (단, 상업지역이며, 건축조례로 정하는 건축물은 제외)  
 가. 숙박시설                          나. 의료시설  
 다. 업무시설                          라. 종교시설

